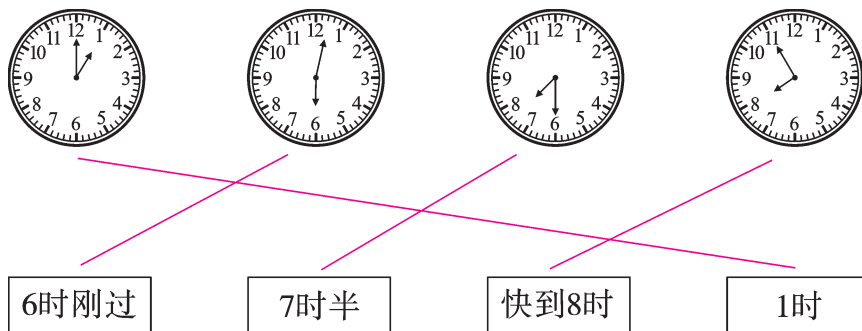



达标测试卷

题号	一	二	三	四	五	六	七	总分
得分								

一、认一认,连一连。(4 分)

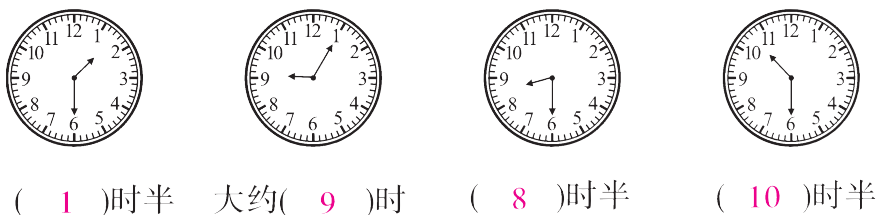
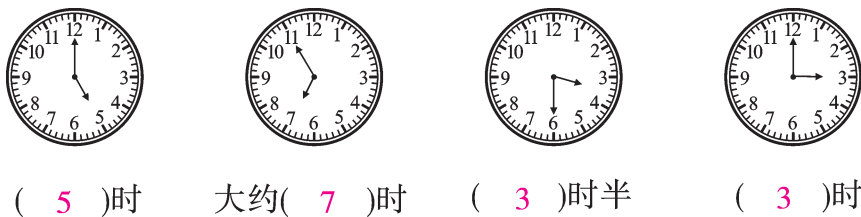


二、想一想,填一填。(24 分)

1.  钟面上有(12)个数,长针是(分)针,短针是(时)

针,这时钟面上的时刻是(7 时)。(4 分)

2. 看钟表,写时刻。(16 分)

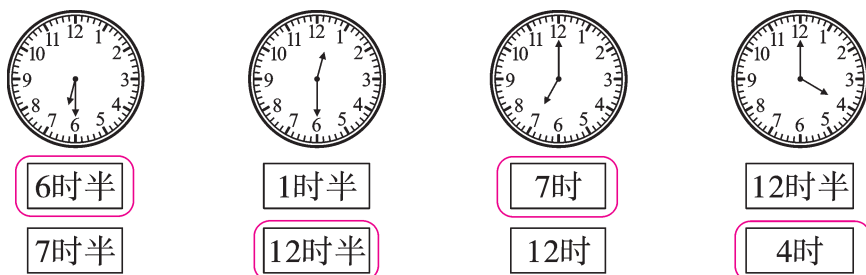


3. 星期六,三位好朋友同时做作业,下面是他们三人完成作业的时刻。最先完成作业的是(③)号同学,最后完成作业的是(②)号同学。(4分)




三、按要求做一做。(10分)


1. 看钟面,圈出正确的时刻。(4分)



2. 小动物们读得对吗? 对的画“√”,错的画“×”。(6分)




四、看时刻,给下面的钟面画上时针和分针。(16分)






5时半



快到2时



刚过10时



6时半

(部分画法不唯一)

五、根据事情发生的先后顺序连一连。(8分)



六、按要求写时刻。(16分)

1. 写出下面各钟表1小时前的时刻。(8分)



7时



12时



2时



9时半

2. 写出下面各钟表1小时后的时刻。(8分)



7时



10时



5时





2时



七、生活大观园。(22 分)

1. 小兔子兄弟俩采完蘑菇回家了,谁先到家呢? 在 ☐ 里画“○”。

(4 分)



2. 下面哪个钟表是坏的? 在 ☐ 里画“×”。(4 分)




3. 写一写你做下列事情的大致时间。(6 分)



看电视
(晚上7时)



写作业
(晚上6时)



睡觉
(晚上9时)

(答案不唯一)

4. (趣味题)读儿歌,猜时刻。(8 分)

(1) 公鸡喔喔催天明,
大地睡醒闹盈盈,
时针、分针成一线,
请问:这时几时整?

(6 时)

(2) 太阳公公当空照,
大地一片金灿灿,
时针、分针叠一起,
请问:这时几时整?

(12 时)